
Probabilità e Statistica

a.a. 2017/2018

C.d.L.: Ingegneria Elettronica e delle Telecomunicazioni, Ingegneria Informatica

Calcolo combinatorio

Marco Pietro Longhi

Dati n oggetti distinti, si dicono *disposizioni semplici di n oggetti di classe k* , tutti i gruppi che si possono formare di k elementi, in modo che due gruppi differiscano

- o per l'ordine,
- o per almeno un elemento.

$$D_{n,k} = n \cdot (n - 1) \cdot \dots \cdot (n - k + 1) = \frac{n!}{(n - k)!}.$$

Esercizio 1. Quanti numeri di due cifre distinte si possono formare con gli elementi dell'insieme $A = \{1, 5, 3, 8\}$?

Risoluzione.



$$D_{4,2} = \frac{4!}{2!} = \frac{4 \cdot 3 \cdot 2!}{2!} = 12.$$

Dati n oggetti distinti, si dicono *disposizioni con ripetizioni di classe k* , tutti i gruppi che si possono formare di k elementi, con la possibilità di ripetizione degli elementi, in modo che due gruppi differiscano

- o per l'ordine,
- o per almeno un elemento,
- o per la ripetizione.

$$D_{n,k}^* = n^k.$$

Esercizio 2. Quanti numeri di due cifre si possono formare con gli elementi dell'insieme $A = \{1, 5, 3, 8\}$?

Risoluzione.



$$D_{4,2}^* = 4^2 = 16.$$

Dati n oggetti distinti, si dicono *permutazioni semplici di n elementi*, tutti i gruppi che si possono formare con gli n elementi, in modo che due gruppi differiscano

- per l'ordine degli elementi.

$$P_n = D_{n,n} = n!.$$

Esercizio 3. In quanti modi 3 diverse persone possono sedersi sulle 3 poltrone di una fila di un palco a teatro?

Risoluzione.



$$P_3 = 3! = 3 \cdot 2 \cdot 1 = 6.$$

Dati n oggetti distinti, si dicono *combinazioni semplici di n oggetti di classe k* , tutti i gruppi che si possono formare con k degli n elementi, in modo che due gruppi differiscano

- per almeno un elemento.

$$C_{n,k} = \frac{D_{n,k}}{P_k} = \frac{n!}{k!(n-k)!} = \binom{n}{k}.$$

Esercizio 4. Un barman ha a disposizione 4 liquori base, quanti cocktails può ottenere mescolandone 3 alla volta?

Risoluzione.

$$C_{4,3} = \binom{4}{3} = \frac{4!}{3! \cdot 1!} = 4.$$

Vogliamo disporre 5 oggetti ($k = 5$) in 3 scatole distinte ($n = 3$).

In quanti modi diversi lo possiamo fare?

Iniziamo a fare lo schema di una possibile configurazione



Lo schema rappresenta la sequenza: nella prima scatola tre oggetti, nella seconda nessun oggetto, nella terza scatola due oggetti

Ma quante sono le configurazioni possibili?

Consideriamo i 7 simboli che formano lo schema:

5 asterischi $*$ ($k = 5$),

2 separatori $|$ ($n - 1 = 2$),

totale $n + k - 1 = 7$



Ogni permutazione dei 7 simboli rappresenta una configurazione.

Ad esempio la permutazione



corrisponde ad un solo oggetto nella prima scatola e due in ciascuna delle altre due.

Lo schema



descrive la configurazione: tutti e cinque gli oggetti nella terza scatola.

Ma se permutiamo fra loro i $k = 5$ asterischi “*” la configurazione non cambia; allo stesso modo se permutiamo fra loro gli $n - 1 = 2$ separatori “|”.

Quindi le configurazioni distinte possibili sono

$$\frac{(n + k - 1)!}{k! (n - 1)!} = \binom{n + k - 1}{k} = C_{n+k-1, k}.$$

Dati n oggetti distinti, si dicono *combinazioni di n oggetti con ripetizione di classe k* , tutti i gruppi che si possono formare con k degli n elementi, con la possibilità di ripetizione degli elementi, in modo che due gruppi differiscano

- o per almeno un elemento,
- o per la ripetizione.

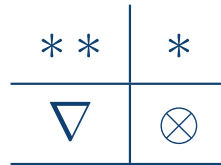
$$C_{n, k}^* = \binom{n + k - 1}{k} = C_{n+k-1, k}.$$

Esercizio 5. Sia $A = \{\nabla, \otimes\}$ quante sequenze di 3 simboli si possono formare scegliendo gli elementi in A ?

Risoluzione. Le sequenze possibili sono $\nabla\nabla\nabla$, $\nabla\nabla\otimes$, $\otimes\nabla\otimes$, $\otimes\otimes\otimes$, ricordiamo che la sequenza $\nabla\nabla\otimes$ coincide con la sequenza $\nabla\otimes\nabla$ in quanto entrambe hanno 2 ∇ e 1 \otimes . Ne segue

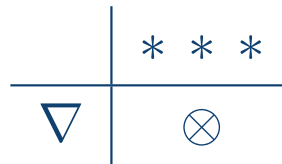
$$C_{2,3}^* = \binom{4}{3} = \frac{4!}{3! \cdot 1!} = 4.$$

Usando lo schema “scatole - oggetti”, i simboli ∇ , \otimes sono le “scatole”.
Lo schema



rappresenta la sequenza $\nabla\nabla\otimes$.

Ad esempio, la sequenza $\otimes\otimes\otimes$ é rappresentata dallo schema



Pertanto le terne possibili sono:

$$C_{2,3}^* = \binom{4}{3} = \frac{4!}{3! \cdot 1!} = 4.$$

Esercizio 6. In una partita di calcio fra amici Giorgio, Marco e Luca segnano complessivamente 7 reti. Quante sono le possibili distribuzioni delle reti fra loro?

Risoluzione.

<i>G</i>	<i>M</i>	<i>L</i>

Le “scatole” rappresentano i tre amici, mentre l’asterisco * “rappresenta la rete”.

La sequenza: una rete segnata da Giorgio, quattro da Marco e due da Luca é rappresentata dallo schema

*	* * * *	**
<i>G</i>	<i>M</i>	<i>L</i>

Pertanto le sequenze di reti possibili sono:

$$C_{3,7}^* = \binom{9}{7} = \frac{9!}{7! \cdot 2!} = 36.$$

Esercizio 7. In quanti modi diversi 3 fratelli si possono spartire 8 cioccolatini?

Risoluzione.

Le “scatole” rappresentano i tre fratelli, mentre l’asterisco * “rappresenta il cioccolatino”.

Ad esempio, la sequenza: il primo fratello prende 5 cioccolatini, uno il secondo e due il terzo é rappresentata dallo schema

* * * * * | * | **

Le possibili “distribuzioni di cioccolatini” quindi sono:

$$C_{3,8}^* = \binom{10}{8} = \frac{10!}{8! \cdot 2!} = 45.$$

Dati n oggetti di cui r_1 uguali tra loro, r_2 uguali tra loro e distinti dai precedenti, $\dots\dots$, r_k uguali tra loro e distinti dai precedenti, con

$$r_1 + r_2 + \dots + r_k = n,$$

si dicono *permutazioni con ripetizione di $r_1 + r_2 + \dots + r_k$ oggetti*, tutti i gruppi che si possono formare con gli n elementi, di cui alcuni indistinguibili in modo che due gruppi differiscano

- per l'ordine.

$$P_{r_1, r_2, \dots, r_k}^* = \frac{(r_1 + r_2 + \dots + r_k)!}{r_1! r_2! \dots r_k!}$$

Esercizio 8. Quanti sono gli anagrammi della parola **AFA**?

Risoluzione. Si ha $r_1 = 2$, $r_2 = 1$. Quindi il numero degli anagrammi è

$P_{2,1}^* = \frac{3!}{2! \cdot 1!} = 3$. Infatti, gli anagrammi possibili sono,

AFA, AAF, FAA

Esercizio 9. Si supponga di avere un'urna con 40 numeri distinti e di estrarne 6.
Quanti sono i casi possibili se

9.1 l'estrazione avviene senza reinserimento e la sequenza delle estrazioni caratterizza la sestupla estratta;

Risoluzione. Si tratta di *disposizioni semplici* di 40 oggetti di classe 6

$$D_{40,6} = 40 \cdot 39 \cdot \dots \cdot (40 - 6 + 1) = \frac{40!}{(40 - 6)!} = \frac{40!}{(34)!} = 2763633600.$$

9.2 l'estrazione avviene senza reinserimento e la sequenza delle estrazioni NON caratterizza la sestupla estratta;

Risoluzione. Si tratta di *combinazioni semplici* di 40 oggetti di classe 6

$$C_{40,6} = \binom{40}{6} = 3838380.$$

9.3 l'estrazione avviene con reinserimento e la sequenza delle estrazioni caratterizza la sestupla estratta;

Risoluzione. Si tratta di *disposizioni di 40 oggetti con ripetizione di classe 6*

$$D_{40,6}^* = 40^6 = 4096000000.$$

9.4 l'estrazione avviene con reinserimento e la sequenza delle estrazioni NON caratterizza la sestupla estratta.

Risoluzione.

Si tratta di *combinazioni di 40 oggetti con ripetizione di classe 6*

$$C_{40,6}^* = \binom{45}{6} = \frac{45!}{6! \cdot 39!} = 8145060.$$

In generale data un'urna con n numeri distinti, se vogliamo estrarre una k -pla, il numero dei gruppi possibili, in base alle quattro modalità di estrazione, é riassunto nel seguente schema

	senza reinserimento	con reinserimento
gruppi ordinati	$D_{n,k} = \frac{n!}{(n-k)!}$	$D_{n,k}^* = n^k$
gruppi non ordinati	$C_{n,k} = \binom{n}{k}$	$C_{n,k}^* = \binom{n+k-1}{k}$

Esercizi

Esercizio 10. In quanti modi diversi quattro persone possono occupare quattro di cinque posti numerati?

[120]

Esercizio 11. Sia $A = \{1, 2, 3, 4, 5, 6, 7, 8, 9\}$.

1. Quanti numeri di tre cifre distinte si possono formare con i numeri dell'insieme A ?
2. quanti di questi numeri sono dispari?
3. quanti terminano con 9?
4. quanti sono maggiori di 700?

[504, 280, 56, 168]

Esercizio 12. Sia $A = \{1, 2, 3, 4, 5, 6, 7, 8, 9\}$

1. Quanti numeri di tre cifre anche ripetute si possono formare con i numeri di A ?
2. quanti di questi numeri sono dispari?
3. quanti sono maggiori di 700?

[729, 405, 243]

[Liberamente tratto da “Elementi di Termodinamica Statistica” Dip. Scienza dei Materiali - Università di Milano Bicocca]

Esercizio 13. Consideriamo un sistema composto da 5 particelle con spin $s = \frac{1}{2}$, il quale può essere orientato in posizione *up* (\uparrow) o in posizione *down* (\downarrow). Supponiamo che le particelle non interagiscano fra loro (indipendenza).

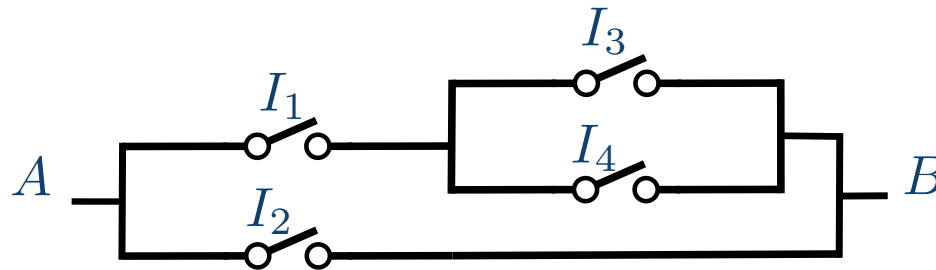
a) Quante sono le configurazioni che presentano 3 spin *up* ?

b) e 2 spin *up* ?

[10, 10]

[Tratto da “Elementi di Termodinamica Statistica” Dip. Scienza dei Materiali - Università di Milano Bicocca]

Esercizio 14. Nel circuito in figura gli interruttori ($I_i, i = 1, 2, 3, 4$) possono essere o aperti (0) o chiusi (1). Quante sono le possibili configurazioni che permettono il passaggio di corrente tra A e B ?



[11]

Esercizio 16. Quanti sono i numeri di tre cifre che si possono formare con i numeri

$\{0, 1, 2, 3, 4, 5, 6, 7, 8\}$ costituiti da

1. cifre tutte distinte?
2. cifre anche ripetute?

[448, 648]

Esercizio 17. Quanti anagrammi si possono formare con la parola DERIVATO? quanti di questi anagrammi finiscono con ATO?

[40320, 120]

Esercizio 18. Quanti anagrammi si possono formare con la parola STATISTICA? quanti di questi anagrammi iniziano per S?

[75600, 15120]

Esercizio 19. In quanti modi si possono distribuire 5 quaderni uguali a 4 bambini?

[56]

Esercizio 20. Le iniziali del nome e del cognome di una persona si dicono "cifre" e vengono stampate sulla copertina di un'agenda. Se si vogliono preparare gli stampi per tutte le cifre che si possono formare con le 26 lettere dell'alfabeto internazionale, quanti stampi é necessario disporre?

[676]

Esercizio 21. Quanti terni si possono formare con i 90 numeri del lotto?

[117480]

Esercizio 22. A un concorso per due posti di impiegato, rispettivamente negli uffici del magazzino e del personale di un'azienda partecipano 15 concorrenti. In quanti modi possibili tra i concorrenti vi possono essere due vincitori?

[210]

Esercizio 23. (Tema d'esame del 05/07/16-C1) A un concorso con 3 posti partecipano 10 concorrenti. Quali sono le possibili terne di vincitori?

[120]

Esercizio 24. Determinare quanti colori si possono ottenere combinando in tutti i modi possibili i sette colori dell'iride.

$$\left[\sum_{k=1}^7 C_{7, k} \right]$$

Esercizio 25. I geni (cioè i portatori di caratteri ereditari) compaiono in coppia in ogni cellula di un individuo. Nel caso più semplice ogni gene può presentarsi sotto due forme distinte (dette *alleli*) che indichiamo con A_1 ed A_2 . Possiamo allora rappresentare questi tre tipi diversi di geni (detti *genotipi*) come

$$A_1 A_1, \quad A_1 A_2, \quad A_2 A_2.$$

Quanti genotipi fornisce un gene con tre alleli?

[6]

Esercizio 26. (Tema d'esame del 06/09/05-C3) Una serratura si apre con un codice decimale di tre cifre. Sapendo che due cifre sono dispari, scelte tra $\{1, 3, 5, 7, 9\}$, e una pari, scelta tra $\{0, 2, 4, 6\}$, trovare il numero massimo di tentativi che bisogna effettuare per aprire la serratura.

[300]

Esercizio 27. Sei amici, tre uomini e tre donne, si recano a teatro dove hanno prenotato una fila di 6 posti consecutivi. Se si vogliono sedere alternandosi uomini e donne, quante sono le possibili sistemazioni?

[72]

Esercizio 28. Una vettura ferroviaria ha 6 posti nel verso di marcia e 6 nel senso contrario, in quanti modi si possono disporre 6 viaggiatori di cui 4 vogliono sedersi nel senso di marcia e 2 nel senso opposto?

[10800]

Esercizio 29. In quanti modi un gruppo di sette persone si può disporre

1. in sette sedie allineate?
2. intorno ad un tavolo circolare?

[5040, 720]

Esercizio 30. (Tema d'esame del 26/08/15-C6) In quanti modi si possono mettere in fila 4 ragazzi e 3 ragazze in modo che i ragazzi siano tutti vicini tra loro e le ragazze tutte vicine tra loro?

[288]

Esercizio 31. Un'agenzia turistica organizza viaggi che prevedono la visita a quattro fra dieci prestabilite città. Calcolare

1. in quanti diversi modi un turista può scegliere le quattro città;
2. in quanti diversi modi l'agenzia può fissare gli itinerari.

[210, 5040]

Esercizio 32. Quanti numeri con meno di 5 cifre si possono formare, se si vuole che abbiano tutte le cifre dispari?

[780]

Esercizio 33. Un'urna contiene dieci palline bianche e cinque nere. Determinare in quanti modi quattro palline possono essere estratte dall'urna nell'ipotesi che esse

1. possano essere di qualsiasi colore;
2. debbano essere due bianche e due nere;
3. debbano essere tutte bianche;
4. debbano essere tutte nere;
5. debbano essere dello stesso colore.

[1365, 450, 210, 5, 215]

Esercizio 34. Considerando un mazzo di quaranta carte, calcolare quante possibili coppie si possono formare estraendo

1. due carte contemporaneamente;
2. due carte successivamente senza rimettere la prima carta estratta nel mazzo;
3. due carte successivamente rimettendo la prima carta nel mazzo.

[780, 1560, 1600]

Esercizio 35. Date nel piano 12 rette determinare il numero dei punti di intersezione sapendo che 5 sono parallele e le rimanenti sono a due a due incidenti.

[56]

Esercizio 36. (Tema d'esame del 05/07/11-C3)

Per aprire una porta blindata, occorre digitare un codice segreto formato da due vocali distinte seguite da tre cifre scelte tra $\{0, \dots, 9\}$. Calcolare il numero di codici che contengono almeno una delle cifre 0, 1, 2.

[13140]

Esercizio 37. (Tema d'esame del 09/06/15-C1)

Un prodotto viene etichettato stampando 6 linee sottili, 5 linee medie e 3 linee spesse. Se ad ogni sequenza di linee corrisponde una diversa etichetta, quante diverse etichette si possono realizzare con questo schema?

[168168]

Esercizio 38. (Tema d'esame del 11/12/07-C3)

In quanti modi è possibile eleggere 4 rappresentanti da un gruppo di 21 uomini se due di essi non possono essere eletti insieme?

[5814]
